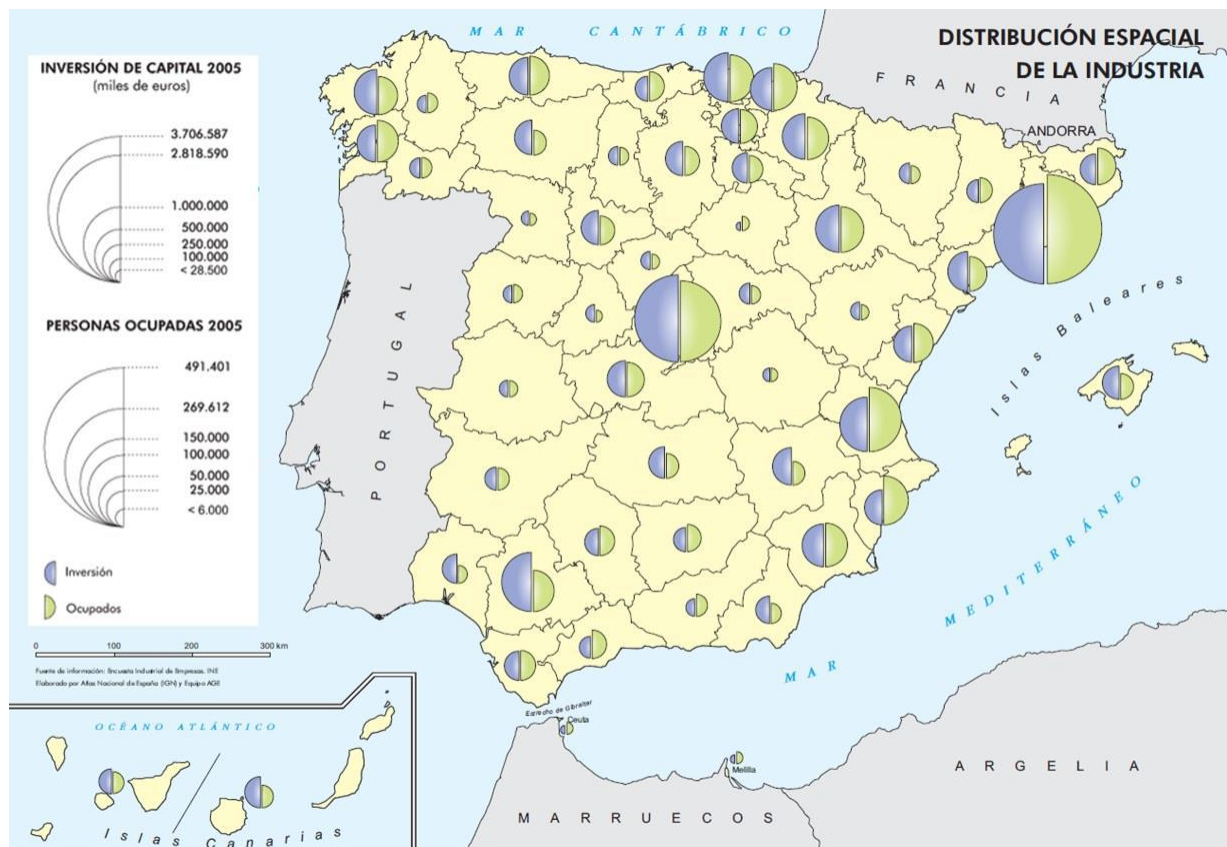


PRÁCTICOS PEVAU

ESPACIO INDUSTRIAL

1. En el mapa siguiente se representa la distribución espacial de la industria de España en 2005. Analícelo y responda a las siguientes cuestiones:

- Localice en el mapa y señale las cinco provincias con mayor población ocupada en industria.
- Describa brevemente, a partir de los datos del mapa, el comportamiento de la industria en Andalucía.
- Analice las causas y consecuencias de la desigual distribución espacial de la industria en España.



2. En el mapa adjunto están representadas las áreas industriales de España. Usando como referencia dicho mapa conteste a las preguntas siguientes:

- Comente razonadamente la situación de los grandes polos industriales y su área de influencia.
- Describa los ejes de expansión industrial que pueda distinguir en el mapa y sus condicionantes geográficos.
- ¿A qué provincias afecta el área de declive industrial? ¿Cuáles son las causas que han provocado ese declive?



3. El mapa muestra la estructura espacial y la densidad de la industria en España en 1975. Tras su observación responda a las siguientes cuestiones:

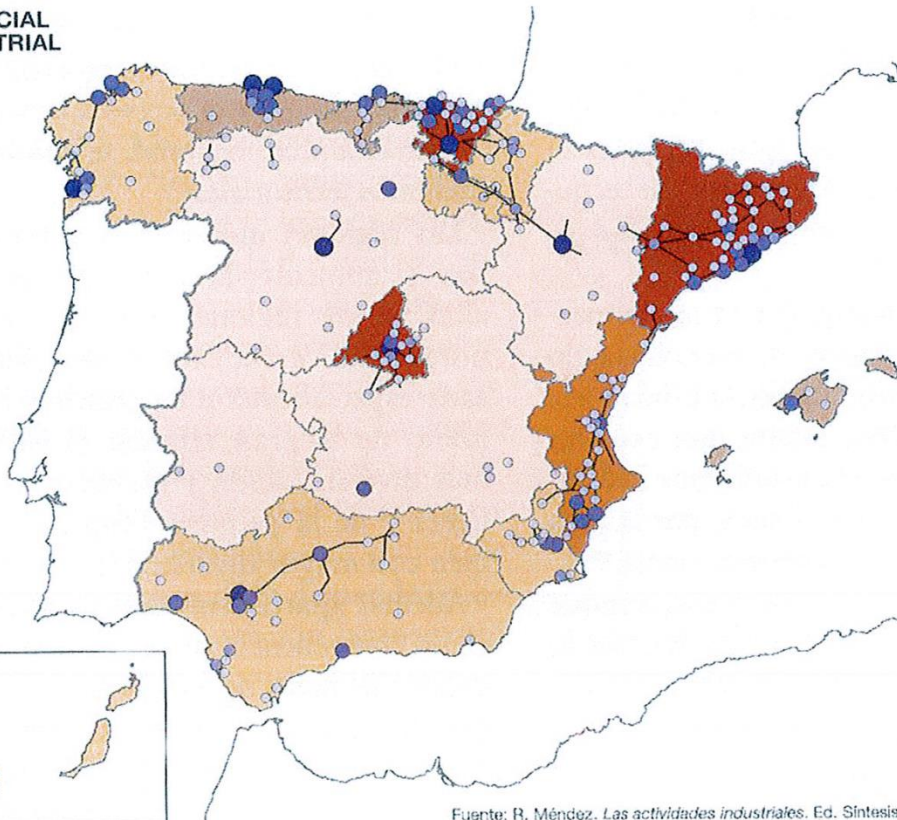
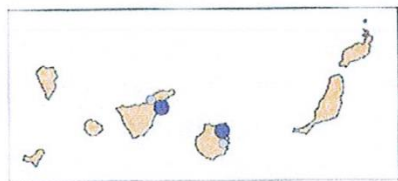

- Diga el nombre de las Comunidades Autónomas que tienen más de 16 trabajadores/km².
- Identifique y diga el nombre de las ciudades con más de 50.000 empleos situados en las Comunidades Autónomas de Galicia, Asturias, Aragón, Castilla y León y Andalucía.
- Explique los principales rasgos de la distribución espacial de la industria en España.
- ¿Ha cambiado sustancialmente esta situación a partir de 1975?

ESTRUCTURA ESPACIAL Y DENSIDAD INDUSTRIAL EN 1975

Trabajadores/Km²
Media España = 7,2



Nº de empleos (miles)

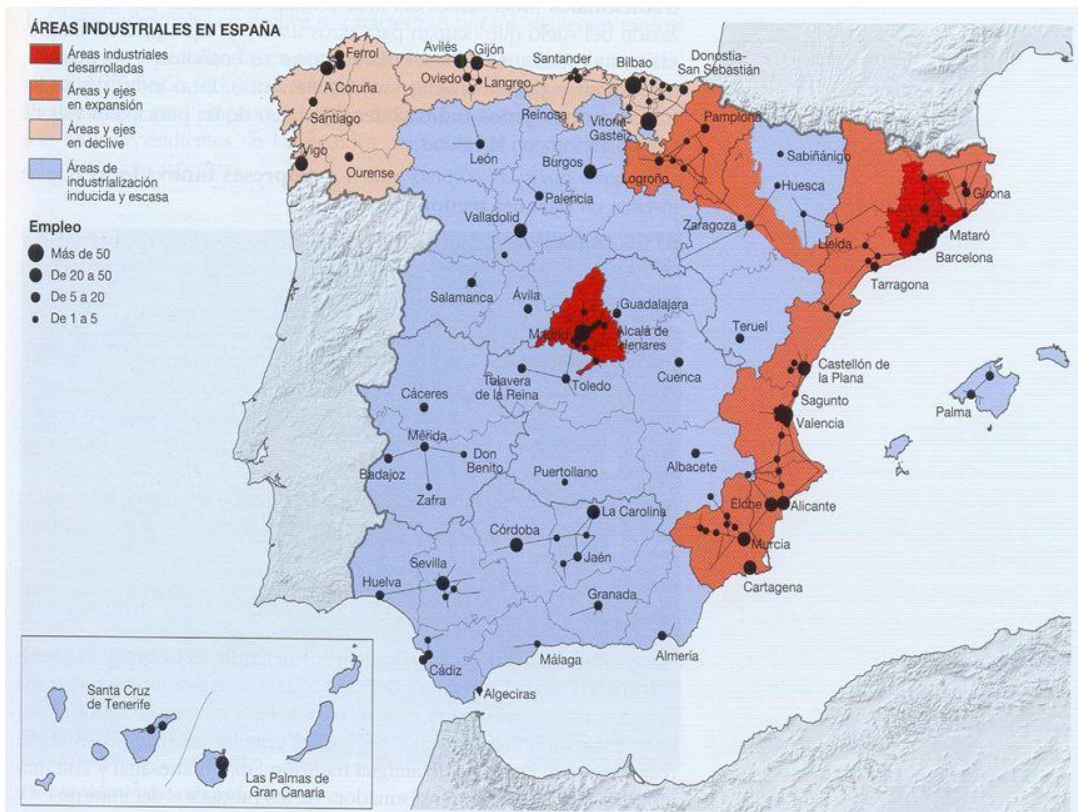


Fuente: R. Méndez. *Las actividades industriales*. Ed. Síntesis.

4. El mapa representa la distribución de la industria y el empleo industrial España. Analícelo y responda a las preguntas que se plantean.

- a) Identifique y relacione los principales focos industriales de España.
- b) Identifique y relacione las áreas industriales en declive.
- c) Explique cuáles son los factores que condicionan esta distribución de los espacios industriales.

Áreas industriales en España



5. El mapa representa la estructura económico-territorial del empleo industrial en España. Analícelo y responda a las cuestiones que se plantean.

- a) Señale, ordenándolas por su localización de oeste a este, el nombre de las provincias que ocupan a más de 75.000 personas en la industria.
- b) Identifique y enuncie las provincias con más del 20 % de población activa empleada en la industria.
- c) Comente las líneas generales y los factores de la actual distribución espacial de la industria en España.

